

第31回（平成28年度）
商業経済検定試験問題
〔ビジネス経済A〕

解答上の注意

1. この問題のページは2から15までです。
2. 解答はすべて別紙解答用紙に記入しなさい。
3. 問題用紙の表紙に受験番号を記入しなさい。
4. 文字または数字で記入するもの以外はすべて記号で答えなさい。
5. 計算用具などの持ち込みはできません。
6. 制限時間は60分です。

※ 試験終了後、問題用紙も回収します。

① 次の文章を読み、問いに答えなさい。

2016年2月、福岡市にある三つの青果市場が移転・統合し、新たに福岡市中央卸売市場青果市場が開場した。統合前の三つの市場ではいずれも取扱量が増加し、施設が狭くなり流通や物流の機能が低下していたが、新市場になり、衛生的かつ効率的な九州最大の青果市場に生まれ変わった。では、卸売市場では、どのような方法で取引が行われているのだろうか。

卸売市場の役割として、消費者に対する迅速で安定的な生鮮食料品の提供、生産者に対する確実に速やかな販路の提供、小売業者に対する取引の場の提供があげられる。また、卸売市場の機能として、集荷・公正な価格の形成・分荷・確実な取引の決済・流通経費の削減・情報の提供・衛生の保持などがあげられる。このような役割や機能を果たすために、(a)希少な財をどのように配分するかを決める社会的なしくみのうち、最も効率的な方法で取引できるようにしているのである。

財の取引方法には、早い者勝ちである先着順や抽選販売など、さまざまな方法がある。なかでも卸売市場では(b)競売やせり、オークションでの取引方法をとることが多い。この取引方法は有効な(c)市場メカニズムの例である。

消費者の食の安全・安心に対する意識の高まりや食生活の変化、産地直送やインターネット取引など流通チャネルの拡大が続き、市場を取り巻く環境は変化を続けている。これからも利用者や消費者のニーズに応え続けてほしい。

問1. 下線部(a)を何というか、9文字で正しい用語を記入しなさい。

問2. 下線部(b)の説明として、次のなかから適切なものを一つ選びなさい。

- ア. 買い手に購入の意思表示をしてもらい、最も名声を得ている人が財を手に入れることができる方法。
- イ. 買い手に購入の意思表示をしてもらい、最も高い価格をつけた人が財を手に入れることができる方法。
- ウ. 買い手に購入の意思表示をしてもらい、最も早く意思表示をした人が財を手に入れることができる方法。

問3. 下線部(c)の説明として、次のなかから適切なものを一つ選びなさい。

- ア. 財を早く購入しないと価格が上がるようにして、購入の判断を早くさせようとするしくみ
- イ. 財を取引するたびに価格を変動させるプログラムを組み込んで、顧客の注意をひくしくみ
- ウ. 財に価格をつけ、買い手と売り手の希望が一致するところで財の配分を実行するしくみ

② 次の文章を読み、問いに答えなさい。

2016年4月、家電メーカーのA社は、空気清浄機に蚊取りの機能を搭載した新製品をわが国で発売し話題となった。

空気清浄機の市場は、市場占有率で見ると(a)2社以上、多くとも10数社程度の企業が存在する市場である。そのなかでA社は、新製品について(b)空気清浄機に蚊取りの機能を搭載するという差別化を行った。蚊取り技術といえば、殺虫成分をいかに効果的に発散して蚊を駆除するかというところに意識が注がれてきたが、A社の新製品は、殺虫成分を一切使用せず蚊を駆除するという。紫外線を好む蚊の習性を利用し、紫外線を発するUVライトを空気清浄機に取り付け、寄ってきた蚊を吸引して粘着紙に吸着させるというものである。殺虫成分を室内に拡散させるというこれまでの前提を覆し、室内の蚊をおびき寄せて一気に駆除してしまうという発想である。A社は、(c)競争他社に勝つための競争のなかからまったく新しい技術を開発し、導入することで社会に変化をもたらしたといえる。

このように、(d)企業間の競争によって市場は活性化する。A社の新製品はアジア諸国でわが国に先駆けて発売が開始され、当初の計画の2倍売れているという。これからも新しいアイデアで社会によりよい大きな変化がおこることを期待したい。

問1. 下線部(a)を何というか、次のなかから適切なものを一つ選びなさい。

- ア. 完全競争市場 イ. 寡占市場 ウ. 独占的競争市場

問2. 下線部(b)と同じような具体例として、次のなかから適切なものを一つ選びなさい。

- ア. X社は、スマートフォンで外出先からでも電源や機器の設定ができる機能を付帯したエアコンの発売を決めた。
イ. Y社は、自社と機能の差がない洗たく機を発売した競争他社より価格を引き下げた洗たく機の発売を決めた。
ウ. Z社は、他社が自社より優れた機能をもつ冷蔵庫を発売したため他社製品の機能をまねた冷蔵庫の発売を決めた。

問3. 下線部(c)はどのようなことか、次のなかから適切なものを一つ選びなさい。

- ア. 競争によって自然独占が生じた。
イ. 競争によって市場が細分化された。
ウ. 競争によってイノベーションを生み出した。

問4. 下線部(d)の具体例として、次のなかから最も適切なものを一つ選びなさい。

- ア. 競争企業に勝つことができるように、人件費を抑えようと希望退職者をつのり経費を抑えるようになる。
イ. 競争企業に勝つことができるように、各社は販売促進活動にこれまで以上に経費をかけないようになる。
ウ. 競争企業に勝つことができるように、新しい技術の開発や独創的な製品などが開発されていくようになる。

③ 次の文章を読み、問いに答えなさい。

Aは、20年前からパン職人として働いている。子どもの頃からパンが好きで、なかでもあんパンは大好物であり、将来はパン職人になり自分の店をもつことが夢だった。現在は独立し、オープンした店の経営は順調である。

Aは、ふと子どもの頃にあった出来事を思い出した。ある日、あんパンを1個、2個と食べていると段々と満足度の増加分の割合が変わってきていることに気がついたのである。今では、それが高校時代に学んだ(a)限界効用逡減の法則であることはわかっているが、子どもの頃は理解できなかった。Aは、毎日たくさんのパンを焼いているが、初心を忘れず1個1個作る喜びを感じながら仕事にあたっている。

Aは、原材料の小豆をこれまでより安く仕入れることが可能になったので、あんパンの価格を160円から130円に値下げした。値下げをはじめてから約1か月が過ぎ、あることに気がついた。値下げをしたあんパンの売り上げだけでなく、カレーパンやメロンパンなどの売り上げも増えていたのである。これは(b)あんパンの価格が下がったことで、顧客に金銭的な余裕が生まれ、他の商品も購入する頻度が増えるという間接的な効果が生じたことが原因の一つと考えた。

Aは、(c)最適消費を考えながらも自店の商品を購入してくださるお客様に改めて感謝した。そして、これからもずっとお客様に喜ばれるパンを焼き続けようと心に誓った。

問1. 本文の主旨から、下線部(a)の説明として、次のなかから適切なものを一つ選びなさい。

- ア. 消費量が増えるほど、新たに追加して消費した1個の財から得られる効用の増加分が大きくなっていく法則。
- イ. 消費量が増えるほど、新たに追加して消費した1個の財から得られる効用の増加分が小さくなっていく法則。
- ウ. 消費量が増えるほど、それまで消費した全体の財から得られる効用の増加分が大きくなっていく法則。
- エ. 消費量が増えるほど、それまで消費した全体の財から得られる効用の増加分が小さくなっていく法則。

問2. 下線部(b)を何というか、漢字を補って正しい用語を完成させなさい。

問3. 下線部(c)の説明として、次のなかから最も適切なものを一つ選びなさい。

- ア. 限られた予算のなかで、どのように組み合わせて買うと満足度が最も大きいかを考えて消費すること。
- イ. 限られた予算のなかで、価格の高いものを買うことで品数を少なくするように考えて消費すること。
- ウ. 限られた予算のなかで、価格の安いものを買うことで品数を多くするように考えて消費すること。

④ 次の文章を読み、問いに答えなさい。

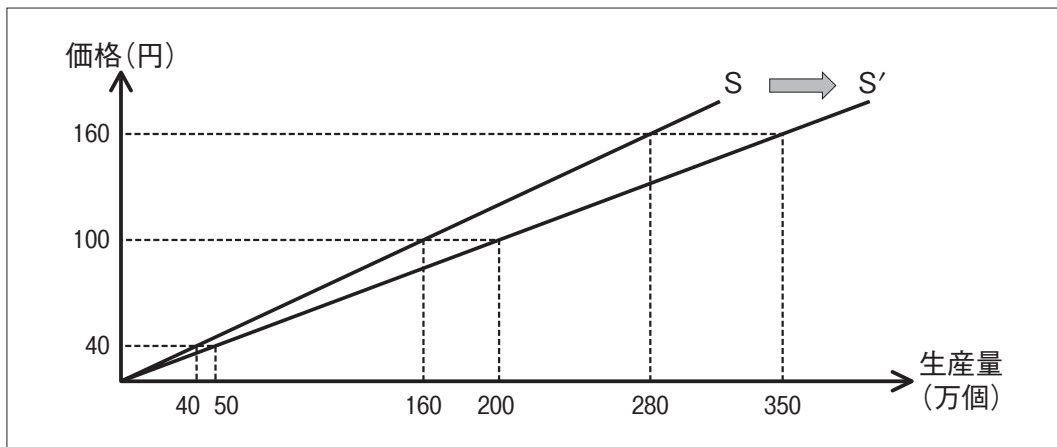
企業が製品を生産し、販売する供給について考えてみよう。下図はパンの供給曲線がSからS'に変化した様子を表した図である。供給曲線Sは、供給量が増加している場合を表しており(a)供給法則は満たしている。

価格は供給を決める最も重要な指標であるが、供給に影響を与える要因はそれだけではない。例えば、原材料が値下がりすると、(b)生産を増やしやすくなり、供給量は増加する。一方、原材料が値上がりすると、生産がしにくくなり供給量は減少する。

また、供給曲線がSからS'に変化することで、供給量が変わることがわかる。例えば価格が100円の時には供給量は160万個から□万個に変化する。

このように、価格の変化による供給量の変化以外に、価格以外の要因による変化を理解しておく必要がある。

パンの供給曲線



問1. 下線部(a)の説明として、次のなかから正しいものを一つ選びなさい。

- ア. 供給曲線は波を打ったようになり、増加や減少を繰り返す。
- イ. 供給曲線は右上がりとなり、その傾きは正となる。
- ウ. 供給曲線は右下がりとなり、その傾きは負となる。

問2. 下線部(b)の要因として、次のなかから適切なものを一つ選びなさい。

- ア. 原油や天然ガスの値上がり
- イ. 生産設備の減少
- ウ. 生産技術の進歩

問3. 文中の□に当てはまる値として、正しい数字を記入しなさい。

問4. 図から読み取れることとして、次のなかから適切なものを一つ選びなさい。

- ア. 供給曲線がSからS'に右シフトしているので、供給量に対して各価格が減少していることが読み取れる。
- イ. 供給曲線がSからS'に右シフトしているので、各価格に対して供給量が減少していることが読み取れる。
- ウ. 供給曲線がSからS'に右シフトしているので、各価格に対して供給量が増加していることが読み取れる。

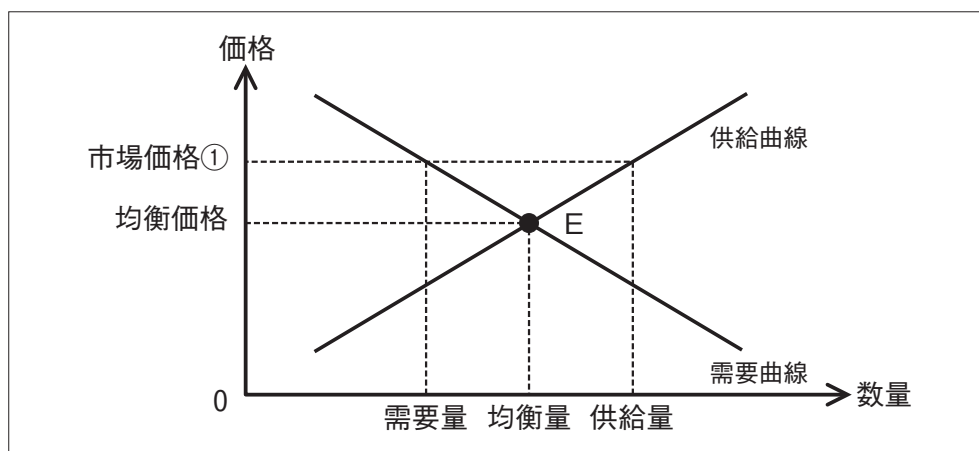
⑤ 次の文章を読み、問いに答えなさい。

市場価格と均衡価格が、最初から同じになるとは限らない。この場合はどうなるのだろうか。下図を使って価格決定のしくみをみてみよう。

下図のE点は、需要曲線と供給曲線が交わったところであり、均衡点という。このときの価格を均衡価格といい、このときの数量を均衡量という。(a)下図では市場価格①とE点の価格にずれが生じていて、需要量と供給量に差が発生している状態である。この状態では生産者の販売意欲が促進され、売りたい量は増加するが、消費者の購買意欲が減退し、買いたい量は減少する。そこで、(b)市場価格①は変動していき、最終的には均衡価格となる。

また、(c)需要者の財に対する好みや所得が変化すると、需要曲線が変動することがある。自由市場では、需要や供給の変化に対応するために、価格は変動するのである。

需要曲線と供給曲線



問1. 下線部(a)を何というか、次のなかから正しいものを一つ選びなさい。

- ア. 超過利潤 イ. 超過需要 ウ. 超過供給

問2. 下線部(b)の説明として、次のなかから適切なものを一つ選びなさい。

- ア. 需要者は価格が下落したら買いたいと考えるようになり、供給者は値下げをしないと売れ残ると考え、価格は徐々に下落していき、均衡価格となる。
イ. 需要者は価格が上昇しても買いたいと考えるようになり、供給者は価格が上昇したら売りたいと考え、価格は徐々に上昇していき、均衡価格となる。
ウ. 需要者は価格が下落したら買いたいと考えるが、供給者は早く売らないと損をすると考え、価格は下落することなく、市場価格①が均衡価格となる。

問3. 下線部(c)の説明として、次のなかから適切なものを一つ選びなさい。

- ア. 需要者の財に対する好みや所得が増加すると需要曲線は左にシフトし、減少すると需要曲線は右にシフトする。
イ. 需要者の財に対する好みや所得が増加すると需要曲線は右にシフトし、減少すると需要曲線は左にシフトする。
ウ. 需要者の財に対する好みや所得が増加すると需要曲線は左にシフトし、減少しても需要曲線は左にシフトする。

⑥ 次の文章を読み、問いに答えなさい。

市場では、さまざまな競争が行われている。ここでは、政府と市場のかかわりをとおして市場の役割と課題について考えてみよう。

トンネルやダム、地下鉄などの公共工事では、参加企業どうしが示しあって入札が行われることがあったといわれている。また、工業製品では(a)主要な参加企業が協力して、横並びで不当に高い市場価格を設定する価格カルテルが行われることがある。他にも市場占有率が高い企業どうしの合併や統合については、自由な競争を制限することもあるので、(b)国の機関による審議の対象になることがある。

自由競争が、最も理想的な資源配分であることから、政府は、競争を制限するさまざまな活動を排除し、自由競争を保証している。しかし、場合によっては(c)同じ産業のなかの企業どうしが、適正な利潤を得ることができないほどの競争が起きることが考えられる。そうなることで社会にとってもマイナスになることがあるため、政府が自由競争を規制することもある。また、(d)市場に唯一の生産者しか存在しない状態では、自分の好きなように市場価格を決定でき、完全な価格支配力をもつ価格設定者となる。ただし、このような状態にならないように法律が制定されている。

政府は、公正な競争を実現するために市場とのかかわり、消費者や社会全体の利益を守っているのである。

問 1. 下線部(a)に対する法的規制として、次のなかから適切なものを一つ選びなさい。

- ア. 事前の申し合わせがあったことが客観的に証明されれば、特定商取引法違反となる。
- イ. 事前の申し合わせがあったことが客観的に証明されれば、独占禁止法違反となる。
- ウ. 事前の申し合わせがあったことが客観的に証明されれば、景品表示法違反となる。

問 2. 本文の主旨から、下線部(b)を何というか、次のなかから適切なものを一つ選びなさい。

- ア. 公安委員会
- イ. 中央労働委員会
- ウ. 公正取引委員会

問 3. 下線部(c)を何というか、漢字 4 文字で正しい用語を記入しなさい。

問 4. 下線部(d)に記された価格設定者を何というか、次のなかから適切なものを一つ選びなさい。

- ア. プライスメイカー
- イ. プライスリーダー
- ウ. プライステイカー

7 次の文章を読み、問いに答えなさい。

インターネット取引に関するトラブルのニュースを聞くことがある。そのトラブルの原因の一つに情報の非対称性に関することが多く存在している。

インターネットサイトで買い物をしようと検索し閲覧すると、例えば、洋服やアクセサリなどの財について、(a)売り手と買い手との間で情報の非対称性が存在している場合が多い。その結果、買い手は自分が注文したものと違うものが届いたと感じてしまうことがある。買い手はこれを理解して、売られている財の平均的な価値を予想するようになり、財の価格がその価値以下のものしか買わなくなる。(b)売り手もその価値以下のものしか販売しなくなり、やがて質の高い財が市場から排除されてしまうことになる。すると高い財を出品しても売れなくなり、その結果、インターネットでは質の低いものしか販売されなくなる。そして、(c)この現象は繰り返されることもある。このようなことは、1970年代のアメリカの中古車市場で実際に起こっており、レモンの市場と呼ばれている。

現在のインターネット取引では、このようなことが発生しないようなくみがある。しかし、限界があり(d)情報の非対称性を完全になくすことは不可能である。トラブルになることをできるだけ避けるためにも、売り手と買い手の双方だけでなく、政府からの働きかけも重要である。

問 1. 本文の主旨から、下線部(a)の具体例として、次のなかから最も適切なものを一つ選びなさい。

- ア. 取引される洋服やアクセサリの特徴や触り心地などについて、売り手がもっている情報と買い手がもっている情報に非対称性が存在する。
- イ. 取引される洋服やアクセサリの支払い方法について、売り手がもっている情報と買い手がもっている情報に非対称性が存在する。
- ウ. 取引される洋服やアクセサリのwebページの表示方法について、売り手がもっている情報と買い手がもっている情報に非対称性が存在する。

問 2. 下線部(b)のようなことを何というか、次のなかから適切なものを一つ選びなさい。

- ア. ゲーム理論
- イ. 不完全情報
- ウ. アドバース・セレクション

問 3. 本文の主旨から、下線部(c)の結果として、次のなかから最も適切なものを一つ選びなさい。

- ア. 最終的には、自助機能が働いて高い質の財がインターネットで販売されるようになる。
- イ. 最終的には、最低の質の財だけがインターネットで販売されるようになる。
- ウ. 最終的には、高い質の財が低い価格に設定されインターネットで販売されるようになる。

問 4. 下線部(d)の理由として、次のなかから最も適切なものを一つ選びなさい。

- ア. 売り手と買い手が、財の価値の情報を載せない業者を排除しきれないため。
- イ. 売り手と買い手が、互いに財に関する情報を共有しているため。
- ウ. 買い手が、財に関する情報の全てを読んで正しく理解するため。

⑧ 次の文章を読み、問いに答えなさい。

マクロ経済の活発さを表す指標に、GDP(国内総生産)がある。GDPは、一国内で一定期間中に生み出された付加価値の合計である。

ここで、GDPの根幹をなす付加価値に対するイメージをもつために、小麦農家、製粉業者、製パン業者が存在する国を例にして考える。下図より、(a)製パン業者が生み出した付加価値を求めることができる。それぞれの主体が、新たに生み出している価値とは何かを考える必要がある。そして重要なのは、(b)小麦農家、製粉業者、製パン業者の三者それぞれが生み出した付加価値の合計が何を意味しているかを考えることである。

GDPは、一国の生産力をはかるものであるが、それを豊かさの指標とみることには注意が必要である。GDPの根幹をなす付加価値は市場の価格に基づいて計算されるため、(c)市場で適正な価格が見つからないような財の価値は、GDPに正しく反映されない。

また、各国のGDPはそれぞれの国の通貨単位で表示されているため、国際比較をする際には、それらを為替レートで米ドルのような共通の通貨に換算する必要がある。しかし、(d)ドル換算されたGDPの国際比較は、生活実感からずれる可能性がある。この点を配慮してつくられたものが、購買力平価による為替レートである。これを取り入れることで、GDPの国際比較をした場合の実感を得やすくなる。

このようにしてGDPは求められ、比較することができる。国の経済規模を知るためにGDPに関心をもってほしい。

パンの生産に関する中間費用や付加価値 (単位：円)

	生産額	中間費用	付加価値
小麦	80	0	(各自計算)
小麦粉	120	80	(各自計算)
パン	200	120	<input type="text"/>

問1. 下線部(a)および図中の に当てはまる値として、次のなかから正しいものを一つ選びなさい。

- ア. 40 イ. 80 ウ. 120

問2. 下線部(b)の内容として、次のなかから正しいものを一つ選びなさい。

- ア. 小麦農家、製粉業者、製パン業者の三者それぞれが生み出した付加価値の合計は、パンの生産額を意味している。
イ. 小麦農家、製粉業者、製パン業者の三者それぞれが生み出した付加価値の合計は、パンの中間費用を意味している。
ウ. 小麦農家、製粉業者、製パン業者の三者それぞれが生み出した付加価値の合計は、小麦の生産額を意味している。

問3. 下線部(c)の具体例として、次のなかから適切なものを一つ選びなさい。

- ア. ヘルパーによる介護 イ. 家族による家事労働 ウ. 専門業者によるごみ処理

問4. 下線部(d)の理由として、次のなかから適切なものを一つ選びなさい。

- ア. 1ドル分の貨幣でどれだけの商品を購入できるか調査しようとしても、同じ商品がないため。
イ. 1ドル分の貨幣で購入できる商品はどの国でも同じだが、購買慣習が異なるため。
ウ. 1ドル分の貨幣でどれだけの商品を購入できるかは、国によって異なるため。

㊦ 次の文章を読み、問いに答えなさい。

GDP(国内総生産)やGNP(国民総生産)は、一国の経済の生産面に着目した指標である。しかし、経済を捉えるには生産面だけでは物足りない。例えば、企業が何かを生産するためには、生産する財に対して誰かが支出しなければ生産できない。また、生産した財によって得られた企業の収入は、生産に貢献した労働者に分配されて家計の所得となる。さらに、家計は受け取った所得のなかから消費の支出を行う。

このように、(a)GDPは生産面、分配面、支出面という三つの側面からみることができ、それらは同じ金額になる。生産面からみたGDPは、各産業の生産額を足し合わせることで求めることができる。分配面からみたGDPは、雇用者報酬に営業余剰、(b)固定資本減耗を足し合わせ、生産・輸入品にかかる税から補助金を差し引いたものを足し合わせることで表すことができる。支出面からみたGDPは、家計の消費に投資、政府支出、(c)純輸出を足し合わせることで表すことができる。

生産面、分配面、支出面から捉えたGDPは、確かに金額は一致するが、現実経済で本当に成り立つのかどうかを考える必要がある。例えば、生産されたものは全て売れているかというとはなく、売れ残りが発生している可能性がある。売れ残りは、在庫投資となり投資の内訳として計上される。(d)経済の先行きを予測するうえで在庫の中身は重要であるが、国民経済計算では在庫の内容については明確にわかるわけではないので注意が必要である。

指標をみることで経済に関してさまざまなことがわかるが、その中身については実態と照らし合わせながら考えていくことが重要である。

問1. 下線部(a)を何というか、漢字4文字で正しい用語を記入しなさい。

問2. 下線部(b)の説明として、次のなかから正しいものを一つ選びなさい。

- ア. 生産設備のうち、日々の生産活動で利用されるなかで失われていく価値
- イ. 資金、土地などの提供や貸与に対する報酬である利子、配当、地代
- ウ. 家計の所得から、所得税や社会保険料などを差し引いた残りの金額

問3. 下線部(c)を求める式として、次のなかから正しいものを一つ選びなさい。

- ア. 消費額 + 貯蓄額
- イ. 輸出額 - 消費額
- ウ. 輸出額 - 輸入額

問4. 本文の主旨から、下線部(d)の説明として、次のなかから最も適切なものを一つ選びなさい。

- ア. 投資が増大しているとしても、実際の内訳はすべて対外純資産によるものなので、景気が良くなっていると判断するには慎重になる必要があるということ。
- イ. 投資が増大しているとしても、実際には売れ残りが発生している可能性があり、景気が良くなっていると判断するには慎重になる必要があるということ。
- ウ. 投資が増大しているとしても、実際の内訳はすべて政府によるものなので、民間部門に活力があるとはいえ、景気が良くなっていると判断するには慎重になる必要があるということ。

10 次の文章を読み、問いに答えなさい。

わが国の経済の歴史はインフレーションとのかかわりが深い。ここでは、1960年代からの物価上昇率の推移をみていく。

1960年代から1970年代にかけて、わが国の物価上昇率は5%前後という(a)低率のインフレーションが長期にわたって持続した。1970年代なかばには、2回のオイルショックにより、物価上昇率が10%以上にまで高まった。とくに、(b)1974年のインフレーションは狂乱物価と呼ばれ、さまざまな騒動が起きた。

その後は(c)1985年に先進5か国の蔵相・中央銀行総裁会議がドル高を是正することで合意し、為替相場へ協調介入したことにより、わが国の輸入品の価格が下がりインフレーションは沈静に向かった。バブル崩壊後の1990年では、物価が下落するデフレーションも観察されている。1990年代後半以降、世界中でさまざまな金融危機が発生し、金融不安が引き起こされた。金融不安によって影響を受けた国々では、経済活動が収縮した。わが国においても、金融不安の影響を引きずり、消費者の購買意欲の回復に至っていない。

このように、デフレーションが話題となってきたのは比較的近年になってのことである。わが国の経済は、インフレーションにより長らく混乱してきた面が大きい。インフレーションについてはさまざまな考え方があり、そのなかに、(d)長期に及ぶインフレーションは、マネーストックの持続的拡大が関係していると捉える考え方も存在している。

近年わが国は、デフレーションからの脱却を掲げ、政策運営を行っているが、将来に対する不安が存在し、消費は必ずしも回復しておらず、さらにインフレーションのことも含めて注意深くみていく必要がある。

問1. 下線部(a)のインフレーションを何というか、カタカナ6文字を補って正しい用語を完成させなさい。

問2. 下線部(b)の内容として、次のなかから適切なものを一つ選びなさい。

- ア. 中央銀行による紙幣の大量発行により、家計では生活必需品を購入するための紙幣を大量に用意する必要が生じ騒動が起きた。
- イ. 中東で紛争が発生し、品不足への不安心理から石油製品やトイレットペーパーなどの買い占め騒動が起きた。
- ウ. 記録的な冷夏による米の生育不良が発生し、食糧市場が混乱することで米を買い求める人々が増え騒動が起きた。

問3. 下線部(c)に記された合意を何というか、次のなかから正しいものを一つ選びなさい。

- ア. プラザ合意 イ. スミソニアン合意 ウ. キングストン合意

問4. 下線部(d)を何というか、次のなかから正しいものを一つ選びなさい。

- ア. 貨幣数量説 イ. 実物的景気循環理論 ウ. 有効需要の原理

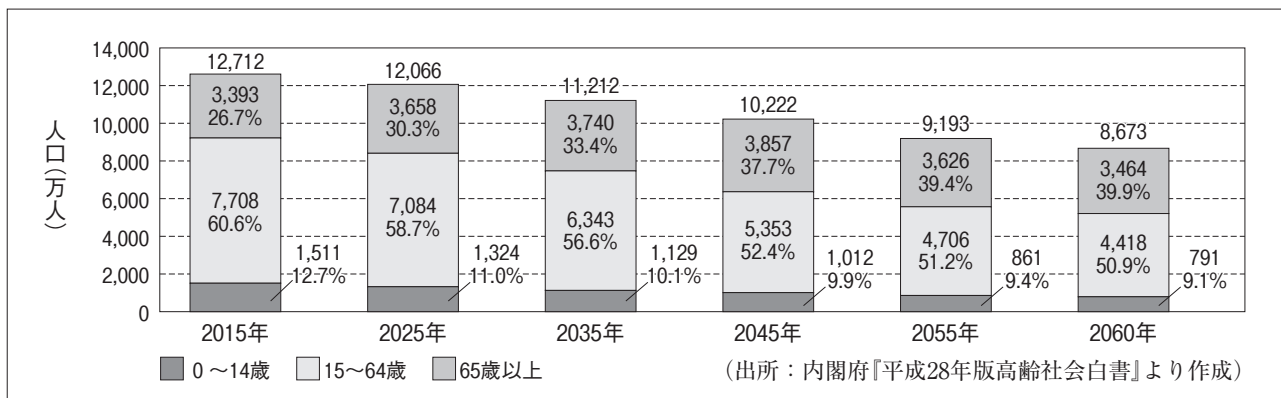
11 次の文章を読み、問いに答えなさい。

わが国の経済成長について考えた場合、総需要と総供給の二つの面に分けて考えることができる。ここでは、現実の実質GDPが、長期的に社会全体の供給能力から大きく逸脱することはできないという、総供給の観点から考えることにする。

(a)下図より、2015年から2060年にかけてわが国の人口構成がどのように変化しているのかという概要をつかむことができる。下図は今後のわが国の政策を考えるうえで重要である。より詳しくみていくと、2015年におけるわが国の人口は約1億2,700万人であり、そのなかに占める(b)15歳から64歳までの者の人口は約7,700万人であることがわかる。これが、2060年には人口が約8,600万人になり15歳から64歳までの者の人口は約4,400万人へと減っていくことになる。このような人口の減少によって、長期的にわが国の生産量が減少していくことが予測できる。ただし、このことはさまざまなことを考えられる契機ともなる。確かに(c)わが国では労働供給量の減少が生産量の減少へつながることが予測できるが、適切な対策を講じることで、生産性を向上させることが期待できる。それに、国全体の生産量が低下するといっても、一人あたりの生産量が減少するわけではない。

総供給の観点から経済成長をみていくことでさまざまな示唆が得られる。得られるものをどのようにいかしていくのかを考えていく必要がある。

わが国の年齢区分別将来人口推計



問1. 下線部(a)の内容として、次のなかから最も適切なものを一つ選びなさい。

- ア. 総人口が減少していくなかで、子どもの出生が増加する多子化と、総人口に対する高齢者の割合が減少する若年化が同時に進行している。
- イ. 総人口が増加していくなかで、子どもの出生が減少する少子化と、総人口に対する高齢者の割合が増加する高齢化が同時に進行している。
- ウ. 総人口が減少していくなかで、子どもの出生が減少する少子化と、総人口に対する高齢者の割合が増加する高齢化が同時に進行している。

問2. 下線部(b)を何というか、漢字4文字を補って正しい用語を完成させなさい。

問3. 下線部(c)における対策の具体例として、次のなかから最も適切なものを一つ選びなさい。

- ア. 就業年齢に制限を加えることで、労働の希少性を高めると同時に価値を高めていくこと
- イ. 高い教育や高度の職業訓練を施すことによって、労働者の労働の質を高めていくこと
- ウ. 労働時間を大幅に増やすことによって、労働者の創意工夫を促していくこと

12 次の文章を読み、問いに答えなさい。

フランスの経済学者であるトマ・ピケティの著作物が、2014年12月に出版されベストセラーとなっている。反響を呼んでいる理由は、その主張の簡潔さにある。

ピケティの主張とは、世界中で所得と富の分配の不平等化が進んでいるというものである。これをみていくには、(a)市場の失敗という現象を理解する必要がある。市場が健全に機能していれば、資源配分は効率的に行われる。しかし、市場が健全に機能していない場合や、たとえ機能していても経済が望ましい状態にない場合には、政府が適切に介入していく必要がある。それでは、政府の機能とは何であるかをみていくことにする。

政府が果たす機能には、大きく分けて三つある。一つ目は資源配分機能である。これは、(b)道路や公園などの多くの人が同時に利用できる財を政府が供給するというものである。二つ目は所得再分配機能である。人の能力や生まれた環境はさまざまである。そのため、あらゆる人々が市場で競争すれば、その結果として生じる所得の格差は、見過ごすことができないほど大きなものになる。このような場合、(c)政府が所得の高い者に高率の税を課すことで、徴収したものを所得の低い者に支給すれば、所得の格差を小さくすることができるというものである。

そして、三つ目は景気安定化機能である。これは、政府が総需要を調節して景気を安定させることである。この機能は、(d)財政自体に備わっているものであり景気の変動に従って自動的に発動されるものである。例えば、人々の所得が下がる不況期には所得税の制度により、自動的に税額が下がる。また、不況期には失業者や貧困者が増えるため、社会保障給付も増える。これらは、家計の消費を下支えし、景気の悪化を食い止める効果をもっている。これに対し、景気を刺激するために公共事業を拡大したり、特別な減税を行ったりすることは裁量的な財政政策と呼ばれる。

このように、政府の機能にはさまざまなものがある。ピケティは、政府が市場に適切にかかわることを提唱している。ピケティの主張がどれだけ多くの財政担当者に受け入れられ、世界経済を動かしていくのか見守っていききたい。

問 1. 下線部(a)の説明として、次のなかから正しいものを一つ選びなさい。

- ア. 効率的な資源配分を達成するための前提条件が満たされているにもかかわらず、政府の裁量による政策が失敗を招き市場によって実現される状態は必ずしも効率的にならないこと。
- イ. 効率的な資源配分を達成するための前提条件が満たされず、市場によって実現される状態は必ずしも効率的にならないこと。
- ウ. 効率的な資源配分を達成するための前提条件が満たされているにもかかわらず、市場が自らもつ不完全性によって実現される状態は必ずしも効率的にならないこと。

問 2. 本文の主旨から、下線部(b)を何というか、次のなかから正しいものを一つ選びなさい。

- ア. 消費財 イ. 投資財 ウ. 公共財

問 3. 下線部(c)のような税制を何というか、漢字 2 文字を補って正しい用語を完成させなさい。

問 4. 下線部(d)のような景気変動をやわらげるしくみを何というか、次のなかから正しいものを一つ選びなさい。

- ア. ビルト・イン・スタビライザー イ. デフレスパイラル ウ. マネタリー・ベース

13 次の文章を読み、問いに答えなさい。

わが国の政府は、2020年度までにプライマリーバランスの黒字化を目指している。プライマリーバランスとは、ある時点において必要とされる社会保障や公共事業、教育、防衛などの政策的経費を、税収でどれだけまかなえているかを示す指標である。

(a)わが国では、政策的経費が増加してきているため税収をどのようにして確保していくかが課題となる。注意すべきなのは、確かにプライマリーバランスの均衡は重要であるが、単にそれを達成するだけでは財政の運営上不十分であるということである。諸外国では、財政の本質的な健全化を目指す観点からプライマリーバランスの均衡ではなく、より厳しい財政収支均衡を目標としている。この点はわが国も見習う必要がある。

わが国の2016年度一般会計予算は約96.7兆円であるが、このうち歳出についてみると国債の元利払いに充てられる費用(国債費)が24.4%を占めている。この割合が大きくなることで(b)財政の硬直化が引き起こされる。政府が大量の国債を発行することは、他にも不安を残すことにもなる。政府による国債の発行は、国民の貯蓄の大きな部分を政府が借り上げることになり、金融市場における資金不足を意味することになる。金融市場における資金不足は利子率を上昇させ、その結果、民間企業の資金調達が困難になり投資が阻害されることになる。このように、(c)財政赤字により民間の投資が委縮することにもなるのである。

このように、財政はさまざまな問題へと波及する恐れがある。わが国の財政再建に関しては、大きな課題となってきたといえる。国民一人ひとりが財政運営に対する意識をもち考えを深めていく必要がある。

問1. 下線部(a)に記されている国の税収の具体例として、次のなかから正しいものを一つ選びなさい。

- ア. 地方交付税 イ. 国庫支出金 ウ. 法人税

問2. 下線部(b)の内容として、次のなかから適切なものを一つ選びなさい。

- ア. 一般会計予算の歳出に占める文教費の割合の増加によって、教育分野に対して成果を求める傾向が大きくなっていくこと。
イ. 一般会計予算の歳出に占める国債費の割合の増加によって、経済の先行きに対する悲観的な見方が増加していくこと。
ウ. 一般会計予算の歳出に占める国債費の割合の増加によって、他の歳出を圧迫し新たな政策実現のための財源が確保できなくなること。

問3. 本文の主旨から、下線部(c)を何というか、次のなかから適切なものを一つ選びなさい。

- ア. クラウディング・アウト イ. スタグフレーション ウ. 乗数効果

14 次の文章を読み、問いに答えなさい。

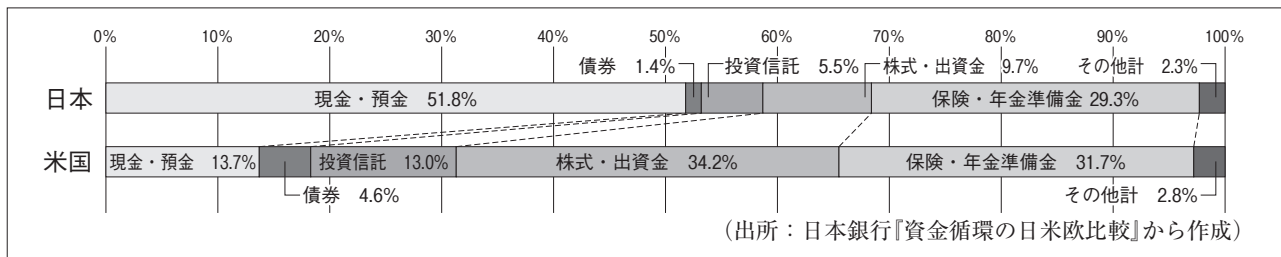
いくつかの卵を一つのかごに入れて持っているとする。この場合、かごを誤って落としてしまえば、卵は全て割れてしまう。このようなことは現実には避けなければならない。

金融資産を保有する場合にも同じことがいえる。つまり、(a)資金を一つの金融資産にのみ投じるのではなく、多様な金融資産にどのように振り分けるかが重要な問題となるのである。それでは、どのようにすれば、効果的に金融資産を保有できるのだろうか。

意識しなければならないのは、金融資産を保有すれば、利子や配当などが得られたり、その価値が上がったりして収益が得られる場合があることである。その一方で、保有した金融資産の価値が下がったり、借り手が倒産したりして資金が返済されないリスクもある。こうした(b)収益とリスクについて把握することが大事である。金融資産を保有するにあたり、重要なのは単にリスクをリスクとして遠ざけてしまうのではなく、収益とリスクのバランスをとることである。リスクをとらなければ収益を得ることができない。金融資産を増加させていくために、適切なリスクをとる必要がある。

(c)下図は、家計の金融資産構成における日米比較である。下図を分析することで、金融資産に対する日米の考え方の傾向を知ることができる。金融資産構成を考えるうえで示唆に富んでいるといえる。指摘できるのは、適切な金融資産構成は、健全な金融市場の発達を促すことにもつながるといえる。経済の状況をふまえながら、今後も適切な金融資産構成をしていくことが重要である。

家計の金融資産構成に関する日米比較(2015年)



問 1. 下線部(a)を何というか、カタカナ7文字を補って正しい用語を完成させなさい。

問 2. 下線部(b)の関係性として、次のなかから適切なものを一つ選びなさい。

- ア. 収益性の高い金融資産はリスクが小さく、収益性の低い金融資産はリスクが大きくなる。
- イ. 収益性の高い金融資産はリスクが大きく、収益性の低い金融資産はリスクが小さくなる。
- ウ. 収益性の高い金融資産はリスクが大きく、収益性の低い金融資産はリスクが不安定になる。

問 3. 下線部(c)の内容として、次のなかから適切なものを一つ選びなさい。

- ア. わが国の家計は、金融資産に占める現金・預金の割合が大きいという特徴があるが、米国の家計は、債券・投資信託・株式の割合が大きいという特徴がある。
- イ. わが国の家計は、金融資産に占める現金・預金の割合が小さいという特徴があるが、米国の家計は、債券・投資信託・株式の割合が小さいという特徴がある。
- ウ. わが国の家計は、米国の家計と同様に、金融資産に占める債券・投資信託・株式などの割合が50%を超えており、家計の金融資産構成の類似化が進んでいる。

ビジネス経済 A 解答用紙

得点

1	問1							問2	問3

2	問1	問2	問3	問4

3	問1	問2		問3
		効果		

4	問1	問2	問3	問4

5	問1	問2	問3

6	問1	問2	問3		問4

7	問1	問2	問3	問4

8	問1	問2	問3	問4

9	問1		問2	問3	問4

10	問1					問2	問3	問4
	インフレーション							

11	問1	問2			問3
					人口

12	問1	問2	問3	問4
				税

13	問1	問2	問3

14	問1					問2	問3
						選択	

受験場校		受験番号	
------	--	------	--

総得点	
-----	--

ビジネス経済 A 模範解答 (各2点)

秘

得点

①	問1						問2	問3		
	資	源	配	分	メ	カ	ニ	ズ	ム	イ

6

②	問1	問2	問3	問4
	イ	ア	ウ	ウ

③	問1	問2		問3
	イ	所得	効果	ア

14

④	問1	問2	問3	問4
	イ	ウ	200	ウ

⑤	問1	問2	問3
	ウ	ア	イ

14

⑥	問1	問2	問3		問4	
	イ	ウ	過	当	競	争

⑦	問1	問2	問3	問4
	ア	ウ	イ	ア

16

⑧	問1	問2	問3	問4
	イ	ア	イ	ウ

⑨	問1			問2	問3	問4
	三	面	等	価	ア	ウ

16

⑩	問1						問2	問3	問4
	ク	リ	ー	ピ	ン	グ	インフレーション	イ	ア

8

⑪	問1	問2			問3	
	ウ	生	産	年	齡	人口

6

⑫	問1	問2	問3		問4
	イ	ウ	累	進	税

⑬	問1	問2	問3
	ウ	ウ	ア

14

⑭	問1						問2	問3	
	ポ	ー	ト	フ	ォ	リ	オ	選択	イ

6

総 得 点	100
-------------	-----